

社會科學習講座

地理、公民

主講人 葉家良

大綱

一・前言

二・地理

三・公民

前言 - 你會遇到的困難

功課太多？

補習時間長？

社團好忙？

來不及讀完？



前言 - 如何學習

時間分配

+

快樂的心





地理

課本

1.內文 - 詳讀

2.補充 - 印象

3.圖片 - 了解



地圖通常以指北方向標來標記北方（圖 1-6），若無標記，則以圖的上方為北方，或藉助經、緯線延伸的方向，作為南北方與東西方的標示。


地表上任二點的最短距離

正北、磁北與方格北之差別

羅盤所指的方向，稱為磁北，受到各地磁場變化的影響，與真正的北極（正北）略有不同，兩者間的差異稱為磁偏角。方格北又稱網格北或圖網北，是地表現象經投影為平面地圖後，縱軸坐標所指示的方向（圖 1-6）。

經線
度差 15

加西減
時間



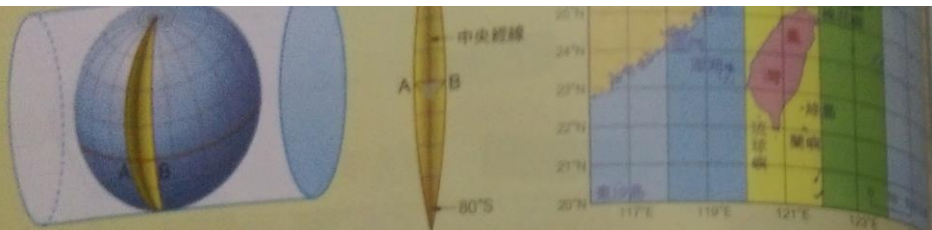


圖 1-20 臺灣的橫麥卡托二度分帶投影
臺灣本島的地圖，以 121° 為中央經線，投影範圍介於 120°E ~ 122°E 之間。澎湖與釣魚臺列嶼因為以上範圍，分別採用 119°E 與 123°E 為中央經線，產生另外兩個分帶。

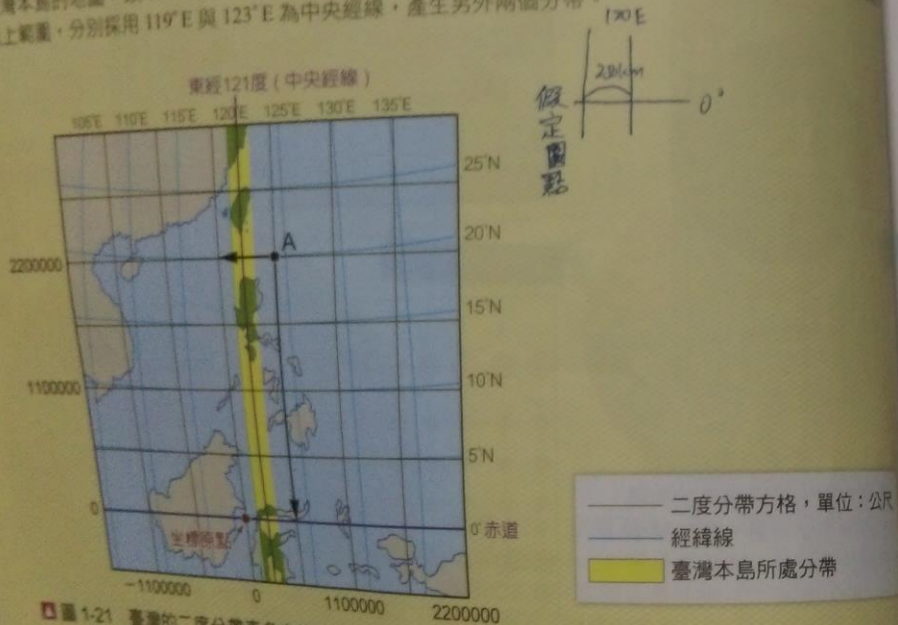


圖 1-21 臺灣的二度分帶直角坐標系統
此坐標系統的座點位在 121°E 和赤道交點的西方 250 公里處，使臺灣各點坐標均為正值。圖中 A 點坐標 (550000, 2200000)，代表與 121°E 以西 250 公里處之距離為 550 公里，與赤道間之距離為 2,200 公里

2. 半屏山標高 233.1m
3. 圖中分布於半屏山東南方的農地上，主要為哪兩種農作物？
水稻 甘蔗

$$\frac{250}{119.6} = \frac{250}{119.6} \times \frac{16}{16}$$

3 圓錐投影 心射

將球面投影在圓錐體上，經線由圓錐頂向赤道呈放射狀，緯線以圓錐體為中心呈同心圓弧，地圖為扇形，切線附近變形量較小。例如：蘭伯特圓錐投影，圓錐面和球面在中緯度相切，常用來繪製中國大陸、美國等中緯度國家的地圖（圖 1-22）。

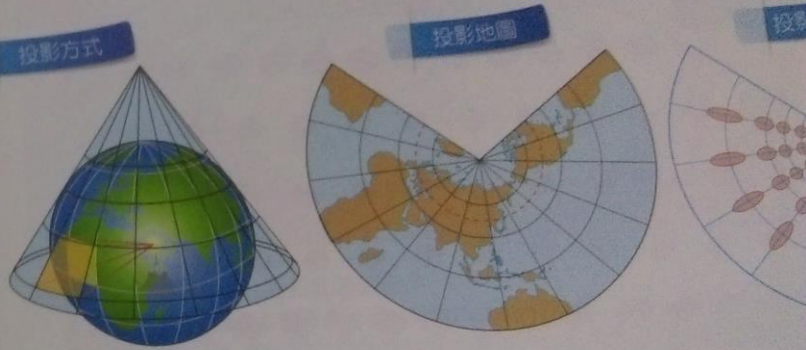


圖 1-22 蘭伯特圓錐投影

由於切線位於中緯度，所以此投影法在高緯地區之變形程度不若麥卡托圓柱投
切線：中緯
經緯線：經：放射狀，緯：同心圓弧
優：中緯正形
缺：高緯誤差

講義

- 1 . 確實完成 - 努力踏實地完成每一部份
- 2 . 檢討題目 - 懷抱誠懇之心弄懂每一題
- 3 . 題目選擇 - 人有好有壞，題目也一樣

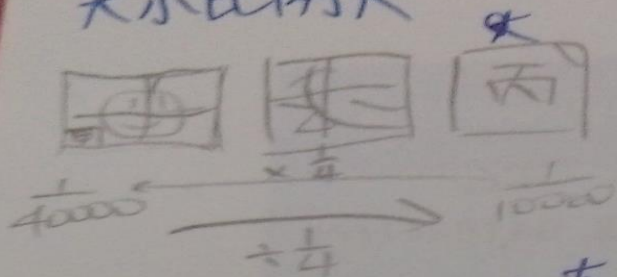
筆記

1 . 老師板書 - 金玉良言

2 . 自行整理 - 學生當自強



大小比例尺



比例尺 小 ← → 大
 涵蓋範圍 大 ← → 小
 內容簡略 ← → 詳細

ex: 全球氣候分布圖 ← → 陽明山國家公園

定位方式:

大部分經緯度

利用網格

Q: 進行逢甲夜市考察
 應用哪個比例尺?

1:10000

方向標 { 正北
 磁北
 方格北

網格座標

比例尺

指地圖上距離
 法、數字法及圖示法

- 文字表示法
- 數字表示法
- 圖示法 (可放大縮小)

▲ 圖 1-5 比例尺的表示法

比例尺的圖示法
 圖示法藉由圖像來表示
 文字法與數字法則否

圖例

指地圖上各種
 組成的地圖集，並

總結

概念

+

背記

+

答題

技巧



公民



課本

- 1 . 內文 - 簡略翻閱過一遍即可
- 2 . 補充 - 有印象就好
- 3 . 圖片 - 務必記在心裡

小百科

③ 社會契約論

認為國家的形成是因統治者與被治者的契約，政府權力乃基於被治者同意。所以當統治者違反契約時，人民便沒有服從的義務，可以更換統治者。

選舉
代議士

④ 民族自決

指一國之人民可以在不受外力的壓迫或干擾下，自由地決定他們的政治地位，並謀求經濟、社會和文化的發展。

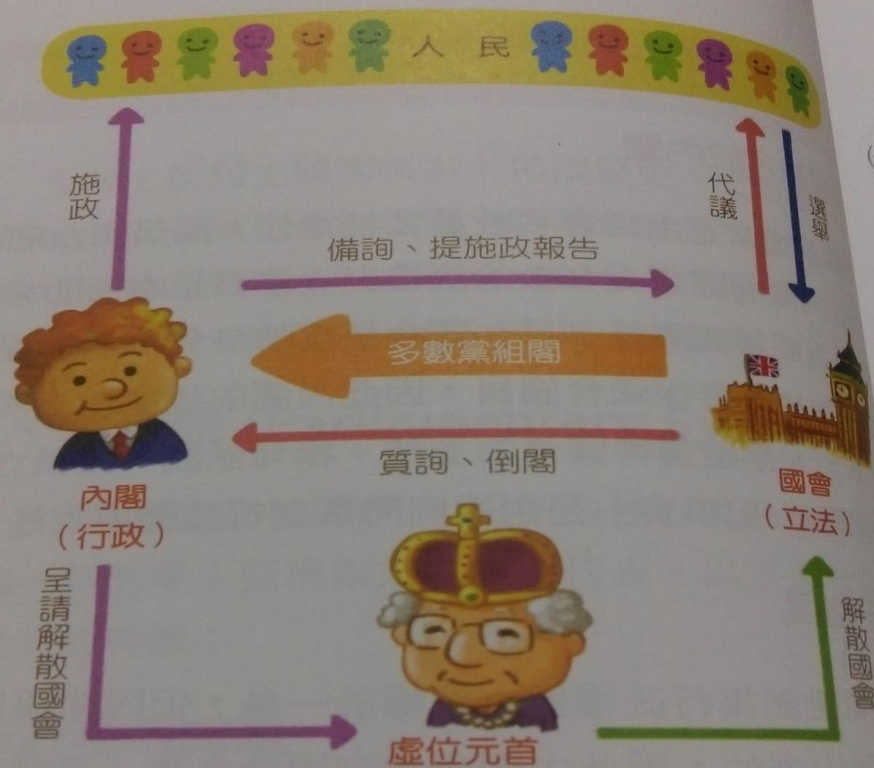


圖 3-3 內閣制運作圖

表 3-1 內閣制的優缺點

- | 優點 |
|-------------------------------------|
| 1. 虛位元首地位中立，有維繫國家認同與穩定政局的作用 |
| 2. 行政權與立法權匯聚於內閣，法案容易通過，施政較有效率 |
| 3. 若內閣與國會發生嚴重爭議，可透過不信任案或解散國會的化解政治僵局 |

講義

學校訂購講義 - 做好做滿

老師講義 - 看好看滿



筆記

老師筆記 - 隨興

個人筆記 - 邏輯重整



主權國家發展: 君主主權 (布丹) 對抗 教會

17世紀三十年 | 宗教戰爭 對抗
↓
確立主權國家

↓
民主主權
(盧梭-社會契約論)

主權國家要件: 主權
| 領土
| 人民 { 屬人
 | 屬地
| 政府

包含中
，但

總結

概念統整

+

題目判讀



整理

**讀好社會科 =
概念統整（背）**

+

正確邏輯思考



延伸



TheNewsLens 關鍵評論

如何在生活中提升社會能力？

如何在生活中實現上課所學？



歷史

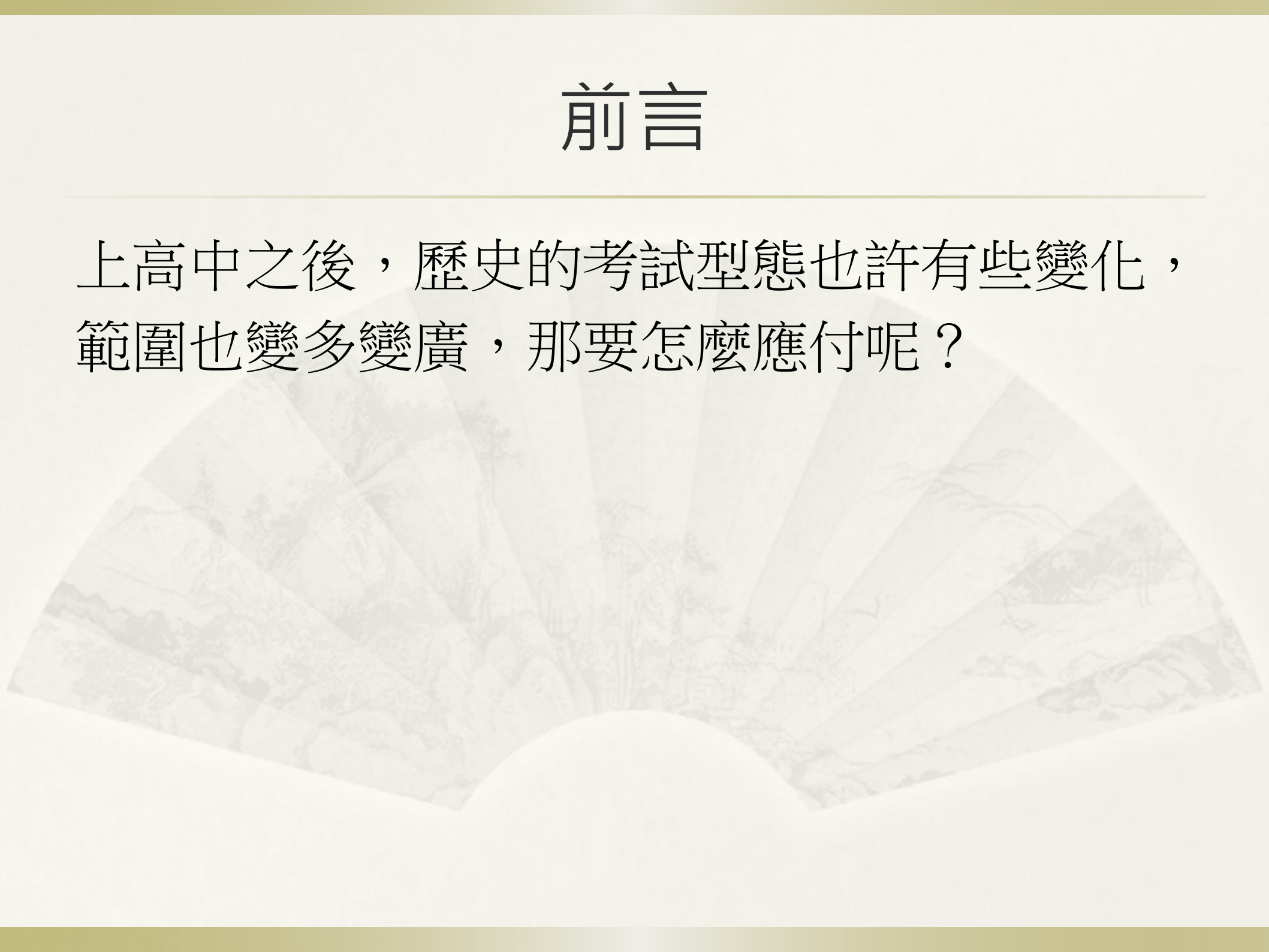
208 洪筱淇

大綱

- * 前言
- * 解答提問
- * 筆記展示 講解
- * 解題技巧
- * 題目要多做嗎
- * 要補習嗎
- * 補充網站
- * 叮嚀與提醒
- * 提問時間

前言

上高中之後，歷史的考試型態也許有些變化，
範圍也變多變廣，那要怎麼應付呢？



解答你的提問!

Q:歷史要多讀課外補充嗎?

A:如果你有興趣的話可以多讀，但如果沒興趣覺得歷史不好玩，那就讀熟講義跟可本就好

Q:只是背多分而已嗎?

A:歷史不只是背起來，要會利用跟思考，對事件和時間要能連貫

筆記展示.講解

48 歷史第三冊習作簿

【100 學期】

9. 「政府管制外匯、黃金，以平抑物價。1942 年，發行一億美金公債，每一美元定價法幣 20 元，不久黑市高至法幣 450 元，但有關人士仍可按官價購進，大獲暴利。1943 至 1945 年之間，政府拋售黃金，

開打	1946 年 3 月蘇軍撤離東北，國民政府派兵接收
初期	1946~1947 年

- ◆國共互有勝負
- ◆東北戰場：國軍尚能基本守住主要城市瀋陽至四平春所構成的防線

還來不及享有抗戰勝利的成果，卻已陷入更大的危機。以下關於此時期的歷史發展，那些敘述是正確的？

(A) 這段期間國共雙方在完全沒有政治協調下，直接訴諸武力爭奪政權 (B) 1946 年之後，國軍敗象日顯 (C) 的結果是兩岸分治，國民黨撤守臺灣，中國共 (D) 國共內戰期間，國民政府仍完成制憲，進入憲政時期 (E) 共軍從蘇聯手中

第 1 課文整理

(A) 第一次容共後 (B) 中山艦事件後 (C) 西安事變後

一、列寧式黨國體制

1. 典型性


2. 「黨」的三大戰役分別是什麼？

權力核心

中央委
中央政

剪下

貼上



抗戰勝利之後的國共戰爭中，國民黨原本居絕對優勢，最終卻輸掉了江山，幾個學生提出自己的見解，其中哪些是正確的原因？

小寶：「中共有蘇聯的全力協助，國民黨政府卻常常受到美國政府的牽制，當時政府太依賴美援了。」

小花：「蔣中正太過自私，大戰才結束，他就忙著削弱競爭對手的實力，大肆裁減非蔣系的軍隊，當然導致這些人聯合起來反抗他了。」

小芬：「抗戰時期的經濟社會破壞驚人，身為執政者的國民黨無法在短期內解決這些問題，滿足人民的需要，人民的不滿當然會越來越高，這是所有執政者都必須面對的問題。」

小明：「中共擅長宣傳，將自己塑造成農業改革者，蘇俄也多為共宣傳，國際輿論往往同情中共，對國民黨施壓。」

小文：「美國建議國民黨當局採行兩黨式的責任內閣制，由國民黨與共產黨依全民普選的方式決定執政權誰屬，為蔣中正拒絕，美方遂斷絕對國民政府之援助以脅之，此導致國軍實力受到嚴重影響。」 (A) 小寶、小花、小芬 (B) 小花、小芬、小明 (C) 小寶、小芬、小明 (D) 小花、小芬、小文。

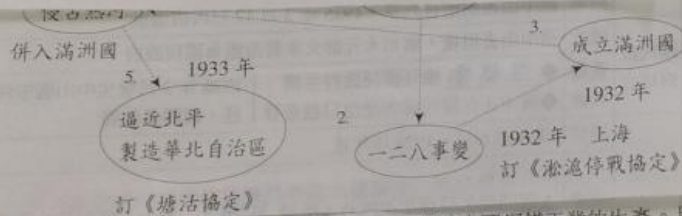
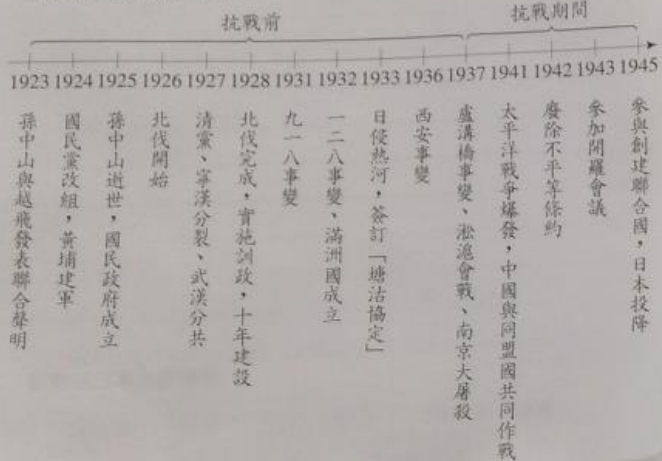
國共鬥爭的過程中，美國派了馬歇爾到中國調停，美國希望中國內部維持穩定，以維護美國在中國的利益，認為國民黨不願意放棄一黨專政才會導致國共無法和談，因此調停的立場較為偏袒共產黨，最後調停失敗之後，發佈「中美關係白皮書」，將調停失敗的原因歸咎到國民黨的腐敗，並將美國對國民黨援助退出中國。此舉對國民黨打擊甚大，因為國民黨相當依賴美國援助，如今美國援助沒了，但是中共繼續得到蘇聯的援助，國共兩黨實力差距日漸擴大，最後國民黨不敵，退至臺灣。

10. 中華民國建立後各項律法的發展介紹如下：臨時政府組織大綱（採總統制）→ 臨時約法（為限制袁世凱，採內閣制）→ 新約法（袁世凱主導下制定，採總統制）→ 段祺瑞廢棄臨時約法，孫中山於廣州發起護法運動 → 訓政時期約法（北伐完成，採孫中山建國大綱的建國程序制定，進入訓政時期）→ 「五五憲草」（民國 25 年頒布的憲法草案，因抗戰擱置）→ 「政協憲草」（政治協商會議制定的憲法草案，經審議後，成為《中華民國憲法》）→ 《動員戡亂時期臨時條款》（國共情勢逆轉後，特別制定的法律，凍結部分憲法條文，如總統任期部分，國民政府播遷來臺後，在臺實施。）

民國 37 年，蔣中正復選為中華民國第一屆總統，同年，國共內戰國民黨情勢惡化，李宗仁與白崇禧以中共和談之由要求蔣中正下野，蔣中正於民國 38 年 1 月下野，由副總統李宗仁代行總統，與中共和談，和談失敗後，李宗仁赴美，中共渡過長江，國民政府遷往臺灣，從開始北伐之後，蔣中正曾有三次下野，第一次下野，民國 16 年 (1927) 清黨，加上北伐徐州失利，為撫平黨內不滿聲音，蔣自請處分下野，民國 17 年 (1928) 再度復職；第二次下野，民國 20 年 (1931) 「九一八事變」，蔣主張先安內再攘外，此舉引發黨內同志的不滿，通電要求蔣下野，蔣第二次下野，民國 21 年日本發動「一二八事變」，國民黨重新賦予蔣中正軍權；

時間表

一、抗戰前與抗戰時的中國



一是對進口鋼鐵課徵較高的關稅，以保障本國鋼鐵工業的生產。民國以來，生產鋼鐵的漢冶萍公司僅於民國五至八年，獲有盈餘，其他時間都是虧損；十一年，漢陽鐵廠不堪虧損停工；十四年，開辦不久的大冶煉鐵廠也停工。根據上述說明及歷史背景，民國五至八年何以會有盈餘？其長期虧損的主要原因為何？

(A) 盈：因歐戰爆發，鋼鐵價格大漲；虧：不平等條約束縛，關稅不能自主

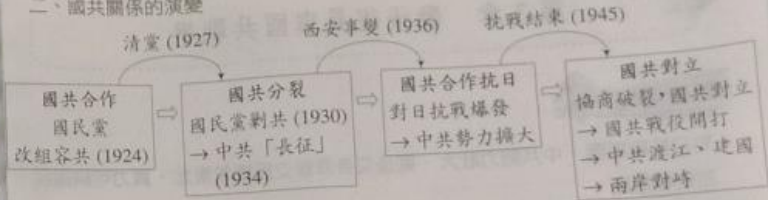
(B) 盈：機器由國外進口，設備新穎；虧：軍閥混戰，故無法繼續修建鐵路

(C) 盈：因歐戰爆發，鋼鐵價格大漲；虧：軍閥混戰，故無法繼續修建鐵路

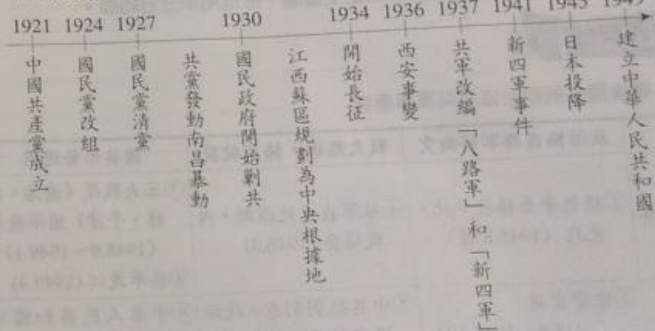
(D) 盈：機器由國外進口，設備新穎；虧：不平等條約束縛，關稅不能自主

[101 指考]

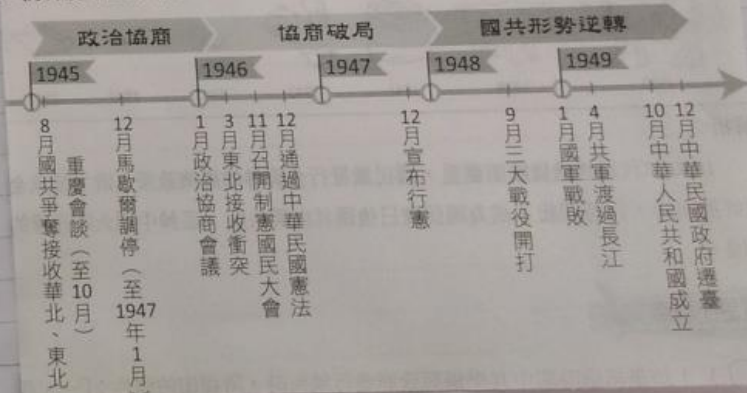
二、國共關係的演變



三、中共發展史年表



※ 抗戰後的國共關係



重要或是錯的題目

(B) 老師向同學介紹民國時期的基本雜誌時，要同學針對右邊這幅時事諷刺漫畫作討論，請問下列何者解讀不正確？ (A)甲生：時代背景可能為對日抗戰時期 (B)乙生：敵寇應該是指日本 (C)丙生：這個時期的中共勢力在日本的圍剿下遭到嚴重打擊 (D)丁生：具有階級鬥爭意識，作者立場可能傾向共產黨



(B) 國民政府撤離中國大陸，原因相當複雜，但真正造成人心浮動、社會動盪不安，進而民怨四起，對國民政府失去信任的主要原因為何？ (A)中共鼓動抗美援朝 (B)金融政策錯誤，發行金圓券取代法幣，導致惡性通貨膨脹 (C)美國發表外交白皮書的打擊 (D)中共在國民政府統治地區，發動工農運動，政府無法應付

(C) 某位史家指出：中國現代史上，有一位領袖領導的政府，為中國建立了一個現代國家的上層管理階層；而另一位領袖領導的政權，則建立了以農村為基礎的下層社會經濟秩序。這兩位領袖最可能是下列何者？ (A)洪秀全、曾國藩 (B)孫中山、蔣介石 (C)蔣介石、毛澤東 (D)毛澤東、鄧小平 [95 指考]

中共發展史年表

- 1949 中華人民共和國建立
- 1950 鎮壓反革命運動
土地改革 (~1953 年)
- 1951 三反
知識分子思想改造運動 (~1952 年)
- 1952 五反
- 1953 糧食統購統銷
- 1955 公私合營 (~1956 年)
農業合作社
- 1956 計畫經濟體系完成
- 1957 大鳴大放 → 反右派鬥爭
鼓吹大躍進
- 1958 土法煉鋼 (~1961 年)
人民公社快速組建
以法規限制人口遷徙 → 城鄉二元差別待遇
- 1966 文化大革命 (~1976 年)
組織紅衛兵、「破四舊、立四新」
- 1971 林彪事件
- 1976 毛澤東去世
四人幫被捕，文革結束
- 1980 「一胎化」政策

二、中共發展策略

建國初期：穩固政權
◆ 新民主主義：穩定物價金融，容忍私營工商業
◆ 消滅階級敵人：土地改革、鎮壓反革命
◆ 改造知識分子思想

社會主義：消滅私營經濟
◆ 私營工商業 → 公私合營 → 計畫經濟
◆ 糧食統購統銷
◆ 農業集體化

共產主義：廢除私有財產
◆ 大躍進
◆ 人民公社

解題技巧

- * 有時間就先看時間
- * 找關鍵的人物.地方.關鍵字等.....
- * 文言文耐心看
- * 聯想到各時期的特色.社會經濟.政治措施.歷史事件
- * 從選項裡對對看，是否與題目的敘述符合
- * 選自己確定的答案

題目要多做嗎

- * 個人認為是要多做的
- * 原因:才不會是在小考或月考時才把腦袋裡的東西運用在題目上，不太會用而且寫起來會慌
- * 個人練習:買題本

要補習嗎

省省錢，省省力
省省時間

如果真的要補習的話，要學測的時候有需要再去補吧



故事，寫給所有人的歷史



清朝進行現代化改革的幕後推手，其實是慈禧太后？

以往被視為妨礙清廷變法的慈禧太后，其實曾是改革運動的重要支持者？



你知道嗎？1945年以前，臺灣與越南之間曾經發生過這些事（下）

連橫吃過越南米？板橋林家有位西貢女婿？越南皇族曾在台北開辦夜談節目？

叮嚀與提醒

- * 把歷史當作是一篇篇的**故事**
- * 把老師上課當作聽故事
- * 找出**樂趣**
- * 歷史不是片斷的
- * 有地圖一定要看(ex:重要城市.行走路線.事件發生地點.....)
- * 看不懂，一定要問老師或同學

提問時間

問

都可以問